

令和5年度 国内旅行業務取扱管理者試験問題

全科目

本試験問題は、**令和5年6月1日現在**を基準としています。

次の注意事項に従って解答してください。(全29ページ)

〔注意事項〕

1. 答は、別の解答用紙（マークシート）に記入してください。
2. マークは、濃度HBまたはBの鉛筆（シャープペンシルを含む。）を使用し、濃くきれいに塗りつぶしてください。なお、訂正する場合は、消しゴムできれいに消し、消しくずを残さないでください。
3. 印刷が不鮮明なものや、乱丁・落丁があった場合は、着席したまま手を挙げてください。
4. 試験終了後、この問題冊子は、持ち帰ることができます。
5. **解答用紙（マークシート）は、必ず提出してください。**白紙答案等の場合であっても、持ち帰ることはできません。
6. 解答用紙（マークシート）の記入にあたっては、次の例に従ってください。指示に従わない場合は、採点されません。

(1) 受験区分、試験地、受験番号及び氏名欄の記入例

〔記入例〕 受験区分「全科目」 試験地「北海道」 受験番号「00999」 番「全旅太郎」の場合

令和5年度 国内旅行業務取扱管理者試験 解答用紙

試験地	受験番号	フリガナ	ゼンリョ タロウ
北海道 <input checked="" type="radio"/> 宮城県 <input type="radio"/> 埼玉県 <input type="radio"/> 東京都 <input type="radio"/> 愛知県 <input type="radio"/> 京都府 <input type="radio"/> 広島県 <input type="radio"/> 福岡県 <input type="radio"/> 沖縄県 <input type="radio"/>	00999	氏名	全旅太郎

受験区分	解答科目	(注意事項)
全科目 <input checked="" type="radio"/>	全科目 ⇨ <input type="checkbox"/> 1 <input type="checkbox"/> 2 <input type="checkbox"/> 3 3科目全てを解答	1. 「試験地」「受験区分」欄は該当箇所をマークし「受験番号」欄は数字で記入してください。(記入例参照) 2. マークは濃度HBまたはBの鉛筆・シャープペンを使用し、訂正は消しゴムできれいに消してください。 3. 解答用紙を汚したり折り曲げたりしないでください。 4. <u>この解答用紙は必ず提出してください。持ち帰ることはできません。</u>
免除A <input type="radio"/>	免除A ⇨ <input type="checkbox"/> 1 <input type="checkbox"/> 2 2科目を解答 (<input type="checkbox"/> 3は免除)	
免除B <input type="radio"/>	免除B ⇨ <input type="checkbox"/> 2 <input type="checkbox"/> 3 2科目を解答 (<input type="checkbox"/> 1は免除)	
免除C <input type="radio"/>	免除C ⇨ <input type="checkbox"/> 2 1科目を解答 (<input type="checkbox"/> 1 <input type="checkbox"/> 3は免除)	

(2) 解答欄

次の例にならって、マークで解答してください。

良い例	悪い例
<input checked="" type="radio"/>	<input type="radio"/> <input style="border: 1px solid black; border-radius: 50%; width: 20px; height: 20px; display: inline-block; vertical-align: middle; margin: 0 5px;"/> <input style="border: 1px solid black; border-radius: 50%; width: 20px; height: 20px; display: inline-block; vertical-align: middle; margin: 0 5px;"/> <input style="border: 1px solid black; border-radius: 50%; width: 20px; height: 20px; display: inline-block; vertical-align: middle; margin: 0 5px;"/> <input style="border: 1px solid black; border-radius: 50%; width: 20px; height: 20px; display: inline-block; vertical-align: middle; margin: 0 5px;"/> <input style="border: 1px solid black; border-radius: 50%; width: 20px; height: 20px; display: inline-block; vertical-align: middle; margin: 0 5px;"/>

指示があるまで開いてはいけません。
問題の内容に関する質問にはお答えできません。

【配 点】

1 旅行業法及びこれに基づく命令

各 4 点×25問

2 旅行業約款、運送約款及び宿泊約款

各 4 点×25問

3 国内旅行実務

1.～4. 各 4 点×12問

5.～9. 各 2 点×26問

1 旅行業法及びこれに基づく命令

旅行業法及びこれに基づく命令に関する以下の各設問について、該当する答を、選択肢の中からそれぞれ1つ選びなさい。

(1) 次の記述から、法第1条「目的」に定められているもののみをすべて選んでいるものはどれか。

- a. 旅行業等を営む者の業務の適正な運営の確保
- b. 旅行業等を営む者を通じた訪日外国人旅行の誘致と国際交流の促進
- c. 旅行者の利便の増進
- d. 旅行業務に関する取引の公正の維持

ア. a, b イ. a, c, d ウ. b, c, d エ. a, b, c, d

(2) 報酬を得て、次の行為を事業として行う場合、旅行業の登録を要しないものはどれか。

- ア. 宿泊事業者が、徒歩のみの日帰り花見ハイキングツアーを販売する行為
- イ. 観光協会が、旅行者からの依頼を受けて他人の経営する旅館を手配する行為
- ウ. コンビニエンスストアが、旅行に関する相談に応ずる行為
- エ. 全国通訳案内士が、旅行者からの依頼に基づき、新幹線の乗車券類を手配する行為

(3) 登録業務範囲に関する次の記述のうち、誤っているものはどれか（いずれも総合旅行業務取扱管理者を選任しているものとする。）。

- ア. 第2種旅行業者は、本邦外の企画旅行（旅行者からの依頼により旅行に関する計画を作成し、これにより実施するものに限る。）を実施することができない。
- イ. 第3種旅行業者は、本邦内の企画旅行（参加する旅行者の募集をすることにより実施するものであって、一の企画旅行ごとに一の拠点区域内において実施されるものに限る。）を実施することができる。
- ウ. 地域限定旅行業者は、訪日外国人旅行者を対象とした本邦内の企画旅行（参加する旅行者の募集をすることにより実施するものであって、一の企画旅行ごとに一の拠点区域内において実施されるものに限る。）を実施することができる。
- エ. 地域限定旅行業者は、法第14条の2第1項の規定により、第1種旅行業者が実施する本邦外の企画旅行（参加する旅行者の募集をすることにより実施するものに限る。）について、当該第1種旅行業者を代理して企画旅行契約を締結することができる。

(4) 次の記述のうち、旅行業又は旅行業者代理業の登録の拒否事由に該当しないものはどれか。

- ア. 刑法の規定により罰金の刑に処せられ、その執行を終わり5年を経過していない者
- イ. 暴力団員による不当な行為の防止等に関する法律第2条第6号に規定する暴力団員でなくなった日から5年を経過していない者
- ウ. 申請前5年以内に旅行業務に関し不正な行為をした者
- エ. 旅行業者代理業を営もうとする者であって、その代理する旅行業を営む者が2以上であるもの

(5) 変更登録等に関する次の記述のうち、正しいものはどれか。

- ア. 旅行者等は、法人である場合であって、その代表者の氏名に変更があったときは、その日から30日以内に、登録行政庁に変更登録申請書を提出しなければならない。
- イ. 旅行者代理業者が地域限定旅行業への変更登録の申請をしようとするときは、その主たる営業所の所在地を管轄する都道府県知事に変更登録申請書を提出しなければならない。
- ウ. 第2種旅行者は、主たる営業所の名称及び所在地について変更があったときは、その日から30日以内に、その主たる営業所の所在地を管轄する都道府県知事に変更登録申請書を提出しなければならない。
- エ. 第3種旅行者が第1種旅行業への変更登録の申請をしようとするときは、観光庁長官に変更登録申請書を提出しなければならない。

(6) 営業保証金に関する次の記述のうち、正しいものはどれか。

- ア. 旅行者は、営業保証金を供託し、供託物受入れの記載のある供託書を受領したときは、直ちにその事業を開始することができる。
- イ. 旅行者が新たに営業所を設置したときは、その日から14日以内に営業保証金を追加して供託しなければならない。
- ウ. 地域限定旅行者が新規登録を受けたことにより営業保証金を供託する場合、国債証券について、その額面金額をもって、営業保証金に充てることができる。
- エ. 旅行者代理業者は、所属旅行者の主たる営業所の最寄りの供託所に営業保証金を供託しなければならない。

(7) 旅行業務取扱管理者の選任に関する次の記述のうち、正しいものはどれか。

- ア. 旅行者等は、訪日外国人旅行者の本邦内の旅行のみを取り扱う営業所においては、総合旅行業務取扱管理者試験に合格した者を旅行業務取扱管理者として選任しなければならない。
- イ. 旅行者等は、本邦外の旅行について旅行業務を取り扱う営業所においては、総合旅行業務取扱管理者試験に合格した者を旅行業務取扱管理者として選任しなければならない。
- ウ. 第3種旅行者は、拠点区域内の企画旅行（参加する旅行者の募集をすることにより実施するものに限る。）のみを取り扱う営業所においては、地域限定旅行業務取扱管理者試験（当該営業所の所在する地域に係るものに限る。）に合格した者を旅行業務取扱管理者として選任しなければならない。
- エ. 旅行者等は、旅行業務に従事した経験が1年未満である者を旅行業務取扱管理者として選任することはできない。

(8) 次の記述から、旅行業務取扱管理者の職務として定められているもののみをすべて選んでいるものはどれか。

- a. 法第12条の7及び法第12条の8の規定による広告に関する事項
- b. 法第6条の4第3項の規定による登録事項の変更の届出に関する事項
- c. 法第12条の4の規定による取引条件の説明に関する事項
- d. 法第12条の10の規定による企画旅行の円滑な実施のための措置に関する事項

- ア. a, b イ. a, c, d ウ. b, c, d エ. a, b, c, d

(9) 旅行者から収受する旅行業務の取扱いの料金（企画旅行に係るものを除く。）に関する次の記述のうち、正しいものはどれか。

- ア. 旅行業者は、事業の開始後速やかに、旅行者から収受する旅行業務の取扱いの料金を定め、これをその営業所において旅行者に見やすいように掲示しなければならない。
- イ. 旅行業者代理業者は、その営業所において、自ら定めた旅行業務の取扱いの料金を旅行者に見やすいように掲示しなければならない。
- ウ. 旅行業者は、旅行業務の取扱いの料金を変更しようとするときは、登録行政庁の認可を受けなければならない。
- エ. 旅行業務の取扱いの料金は、契約の種類及び内容に応じて定率、定額その他の方法により定められ、旅行者にとって明確でなければならない。

(10) 旅行業約款に関する次の記述のうち、正しいものはどれか。

- ア. 旅行業者が、観光庁長官及び消費者庁長官が定めて公示した標準旅行業約款と同一の旅行業約款を定めたときは、その旨を登録行政庁に届け出なければならない。
- イ. 旅行業者等は、旅行業約款をその営業所において、旅行者に見やすいように掲示し、旅行業務に関し契約を締結しようとするときは、旅行業約款の写しを旅行者に交付しなければならない。
- ウ. 旅行業者は、旅行業約款について国土交通省令・内閣府令で定める軽微な変更をしようとするときは、登録行政庁の認可を受けることを要しない。
- エ. 旅行業者が、観光庁長官及び消費者庁長官が定めて公示した標準旅行業約款よりも旅行者に有利な旅行業約款を定めたときは、当該旅行業約款については、登録行政庁の認可を受けることを要しない。

(11) 旅行業者等が旅行業務に関し旅行者と企画旅行契約を締結しようとするときの取引条件の説明及び取引条件の説明をするときに交付する書面に関する次の記述のうち、誤っているものはどれか。

- ア. 旅行業者等は、旅行者と契約を締結しようとするときは、旅行者が依頼しようとする旅行業務の内容を確認した上、国土交通省令・内閣府令で定めるところにより、その取引の条件について旅行者に説明しなければならない。
- イ. 旅行業者等は、旅行者と契約を締結しようとするときは、当該契約に係る旅行業務取扱管理者の氏名及び旅行者の依頼があれば当該旅行業務取扱管理者が最終的には説明を行う旨を、書面に記載しなければならない。
- ウ. 旅行業者等は、旅行者に対し取引条件の説明をするときは、対価と引換えに法第12条の5に規定するサービスの提供を受ける権利を表示した書面を交付する場合であっても、国土交通省令・内閣府令で定める事項を記載した書面を交付しなければならない。
- エ. 旅行業者等は、旅行者と契約を締結しようとするときは、旅行の目的地を勘案して、旅行者が取得することが望ましい安全及び衛生に関する情報がある場合にあっては、その旨及び当該情報を書面に記載しなければならない。

(12) 次の記述から、旅行者等が旅行者と企画旅行契約を締結したときに交付する書面の記載事項として、定められているもののみをすべて選んでいるものはどれか。

- a. 契約の変更及び解除に関する事項
- b. 企画者の氏名又は名称及び住所並びに登録番号
- c. 旅行に参加する資格を定める場合にあつては、その旨及び当該資格
- d. 旅行者の損害の補償に関する事項

ア. a, b イ. c, d ウ. b, c, d エ. a, b, c, d

(13) 旅行業務取扱管理者の証明書の提示、外務員の証明書携帯等に関する次の記述のうち、正しいものはどれか。

- ア. 旅行者代理業者の外務員の証明書は、必ず当該旅行者代理業者の所属旅行者が発行しなければならない。
- イ. 旅行業務取扱管理者が、旅行業務について旅行者と契約を締結しようとするときは、旅行者に対し、国土交通省令で定める様式による旅行業務取扱管理者の証明書を必ず提示しなければならない。
- ウ. 外務員とは、勧誘員、販売員、外交員その他いかなる名称を有する者であるかを問わず、旅行者等の役員又は使用人のうち、その営業所以外の場所でその旅行者等のために旅行業務について取引を行う者をいう。
- エ. 外務員は、いかなる場合においても、その所属する旅行者等に代わって、旅行者との旅行業務に関する取引についての一切の裁判外の行為を行う権限を有するものとみなされる。

(14) 企画旅行に参加する旅行者を募集するための広告に関する次の記述のうち、誤っているものはどれか。

- ア. 企画旅行の参加者数があらかじめ企画者が定める人員数を下回った場合に当該企画旅行を実施しないこととするときは、広告にその旨及び当該人員数を表示しなければならない。
- イ. 広告には、旅行業務取扱管理者の氏名及び旅行者の依頼があれば当該旅行業務取扱管理者が最終的には説明を行う旨を表示しなければならない。
- ウ. 広告において、企画者以外の者の氏名又は名称を表示する場合にあつては、文字の大きさ等に留意して、企画者の氏名又は名称の明確性を確保しなければならない。
- エ. 広告には、旅行者が提供を受けることができる運送、宿泊又は食事のサービスの内容に関する事項を表示しなければならない。

(15) 次の記述から、旅行者等が旅行業務について広告するとき、誇大表示をしてはならない事項として定められているもののみをすべて選んでいるものはどれか。

- a. 旅行者等の業務の範囲、資力又は信用に関する事項
- b. 旅行地の景観、環境その他の状況に関する事項
- c. 旅行に関するサービスの品質その他の内容に関する事項
- d. 旅行者が旅行者等に支払うべき対価に関する事項

ア. a, c イ. a, b, d ウ. b, c, d エ. a, b, c, d

(16) 標識に関する次の記述のうち、誤っているものはどれか。

- ア. 旅行業者代理業者は、営業所において、所属旅行業者の標識を公衆に見やすいように掲示しなければならない。
- イ. 旅行業者等以外の者は、国土交通省令で定める様式の標識又はこれに類似する標識を掲示してはならない。
- ウ. 旅行業者の標識には、登録番号、登録年月日及び登録の有効期間が記載事項として定められている。
- エ. 標識の受託取扱企画旅行の欄は、取り扱っている企画旅行の企画者が明確となるよう記載しなければならない。

(17) 企画旅行の円滑な実施のための措置に関する次の記述のうち、正しいものはどれか。

- ア. 旅行業者は、旅行者からの依頼により旅行に関する計画を作成し、これにより実施する企画旅行については、旅行に関する計画における2人以上の旅行者が同一の日程により行動することを要する区間における円滑な旅行の実施を確保するために必要な集合時刻、集合場所その他の事項に関する指示を行うことを要しない。
- イ. 旅行業者は、本邦内の旅行であって、契約の締結の前に旅行者に対し、旅行地において旅行に関する計画に定めるサービスの提供を受けるために必要な手続の実施その他の措置を講じない旨を説明すれば、当該措置を講じることを要しない。
- ウ. 旅行業者は、旅行に関する計画に定めるサービスの内容の変更を必要とする事由が生じた場合においては、その事由が旅行業者の関与し得ないものであるときを除き、代替サービスの手配及び当該サービスの提供を受けるために必要な手続の実施その他の措置を講じなければならない。
- エ. 旅行業者は、旅行に関する計画に定めるサービスの旅行者への確実な提供を確保するために旅行の開始前に必要な予約その他の措置を講じなければならない。

(18) 旅程管理業務を行う者に関する次の記述のうち、正しいものはどれか。

- ア. 旅行業者は、道路交通法違反により罰金刑に処せられ、その執行を受けることがなくなった日から3年しか経過していない者を、旅程管理業務を行う主任の者として選任することはできない。
- イ. 国土交通省令で定める旅程管理業務に関する実務の経験は、登録研修機関が実施する旅程管理研修の課程を修了した日から1年以内に1回以上又は当該研修の課程を修了した日の前後3年以内に2回以上の旅程管理業務に従事した経験に限られる。
- ウ. 企画旅行に参加する旅行者に同行して旅程管理業務を行う者として旅行業者によって選任される者が複数の場合において、当該旅程管理業務を行う者のうち主任の者は、旅程管理業務を行う主任の者の資格要件を満たすものでなければならない。
- エ. 旅程管理業務を行う主任の者の指導による本邦内における旅程管理業務に相当する実務の研修を受けた経験に限り、国土交通省令で定める旅程管理業務に従事した経験とみなす。

(19) 法第13条「禁止行為」に関する次の記述のうち、誤っているものはどれか。

- ア. 旅行者等は、宿泊のサービスを提供する者（旅館業法第3条の2第1項に規定する営業者を除く。）と取引を行う際に、当該者が住宅宿泊事業法第3条第1項の届出をした者であるかどうかの確認を怠る行為をしてはならない。
- イ. 旅行者等は、旅行業務に関し取引をした者に対し、その取引によって生じた債務の履行をいかなる場合も遅延する行為をしてはならない。
- ウ. 旅行者等は、運送サービス（専ら企画旅行の実施のために提供されるものに限る。）を提供する者に対し、輸送の安全の確保を不当に阻害する行為を行ってはならない。
- エ. 旅行者等は、旅行者に対し、旅行地において施行されている法令に違反するサービスの提供を受けることをあっせんし、又はその提供を受けることに関し便宜を供与してはならない。

(20) 受託契約に関する次の記述のうち、誤っているものはどれか。

- ア. 旅行者は、受託契約を締結したときは、法第3条の規定にかかわらず、旅行者代理業の登録を受けなくても、他の旅行者が実施する企画旅行（参加する旅行者の募集をすることにより実施するものに限る。）について、当該他の旅行者を代理して企画旅行契約を締結することができる。
- イ. 第1種旅行者は、地域限定旅行者を委託旅行者とする受託契約を締結することができる。
- ウ. 旅行者が受託契約を締結したときは、受託業務の取扱いを開始しようとする日までに、登録行政庁にその旨を届け出なければならない。
- エ. 委託旅行者及び受託旅行者は、受託契約において、委託旅行者を代理して企画旅行契約を締結することができる受託旅行者又はその受託旅行者代理業者の営業所を定めておかなければならない。

(21) 旅行者代理業者に関する次の記述のうち、正しいものはどれか。

- ア. 旅行者代理業の登録は、当該旅行者代理業者が所属旅行者のために旅行業務を取り扱うことを内容とする契約が効力を失ったときは、その効力を失う。
- イ. 旅行者代理業者は、所属旅行者の登録の有効期間満了の後、引き続き旅行者代理業を営もうとするときは、登録行政庁の行う有効期間の更新の登録を受けなければならない。
- ウ. 旅行者代理業者は、旅行業務に関し取引をしようとするときは、旅行者代理業者である旨を取引の相手方に明示すれば、所属旅行者の氏名又は名称を明示することを要しない。
- エ. 所属旅行者が、受託契約において受託旅行者代理業者を定めたときは、当該受託旅行者代理業者は、所属旅行者に加え、委託旅行者のためにすべての旅行業務を取り扱うことができる。

(22) 次の記述から、法第18条の3「業務改善命令」として、定められているもののみをすべて選んでいるものはどれか。

- a. 企画旅行に関し旅行者から収受する対価を変更すること。
- b. 旅行者に生じた損害を賠償するために必要な金額を担保することができる保険契約を締結すること。
- c. 企画旅行の円滑な実施のための措置を確実に実施すること。
- d. 旅行業務取扱管理者を解任すること。

ア. a, b, c イ. a, c, d ウ. b, c, d エ. a, b, c, d

(23) 旅行サービス手配業に関する次の記述のうち、誤っているものはどれか。

- ア. 旅行サービス手配業者は、旅行サービス手配業務に関し取引をする者と旅行サービス手配業務に関し契約を締結したときに、当該取引をする者に対し交付する書面に、旅行者に提供すべき旅行に関するサービスの内容を記載しなければならない。
- イ. 旅行サービス手配業者は、営業所において、国土交通省令で定める様式の標識を、公衆に見やすいように掲示しなければならない。
- ウ. 旅行サービス手配業者は、旅行サービス手配業務を取り扱う者が1人である営業所についても旅行サービス手配業務取扱管理者を選任しなければならないが、本邦内の旅行のみについて旅行サービス手配業務を取り扱う営業所にあつては、総合旅行業務取扱管理者試験又は国内旅行業務取扱管理者試験に合格した者を選任することができる。
- エ. 旅行サービス手配業者は、旅行サービス手配業務に関し取引をする者に対し、その取引に関する重要な事項について、故意に事実を告げず、又は不実のことを告げる行為をしてはならない。

(24) 次の記述のうち、旅行業協会が適正かつ確実に実施しなければならない業務として定められていないものはどれか。

- ア. 社員である旅行者からの手配依頼により、当該旅行者と取引をした旅行に関するサービスを提供する者に対し、その取引によって生じた債権に関し弁済をする業務
- イ. 旅行者及び旅行に関するサービスを提供する者からの旅行者等又は旅行サービス手配業者の取り扱った旅行業務又は旅行サービス手配業務に対する苦情の解決
- ウ. 旅行業務及び旅行サービス手配業務に関する取引の公正の確保又は旅行業、旅行者代理業及び旅行サービス手配業の健全な発達を図るための調査、研究及び広報
- エ. 旅行業務又は旅行サービス手配業務の取扱いに従事する者に対する研修

(25) 弁済業務保証金制度に関する次の記述のうち、正しいものはどれか。

- ア. 旅行業協会が供託している弁済業務保証金から弁済を受ける権利を行使しようとする者は、その債権について登録行政庁の認証を受けなければならない。
- イ. 旅行業協会の保証社員である旅行者の弁済限度額は、当該旅行者が営業保証金の供託の免除の規定の適用がないとしたならば当該旅行者が供託すべきこととなる営業保証金の額を下ることができない。
- ウ. 旅行業協会は、弁済業務保証金分担金の納付を受けたときは、直ちに、その納付を受けた額に相当する額の弁済業務保証金を旅行業協会の住所の最寄りの供託所に供託しなければならない。
- エ. 旅行業協会に加入しようとする旅行者は、登録行政庁から新規登録を受けた旨の通知を受けた日から7日以内に、旅行業協会に弁済業務保証金分担金を納付しなければならない。

2 旅行業約款、運送約款及び宿泊約款

1. 標準旅行業約款に関する以下の各設問について、該当する答を、選択肢の中からそれぞれ1つ選びなさい。

(1) 募集型企画旅行契約の部「適用範囲」「用語の定義」に関する次の記述のうち、正しいものはどれか。

- ア. 旅行業者が法令に反せず、かつ、旅行者の不利にならない範囲で口頭のみにより特約を結んだときは、その特約は約款に優先して適用される。
- イ. 旅行業者が旅行者との間で締結する契約において、約款に定めのない事項については、法令又は一般に確立された慣習によるが、ここでいう法令とは、消費者契約法に限定される。
- ウ. 「海外旅行」とは、本邦外のみを旅行をいい、「国内旅行」とは、海外旅行以外の旅行をいう。
- エ. 「カード利用日」とは、旅行者又は旅行業者が契約に基づく旅行代金等の支払又は払戻債務を履行すべき日をいう。

(2) 募集型企画旅行契約の部「旅行契約の内容」「手配代行者」「契約の申込み」に関する次の記述のうち、正しいものはどれか。

- ア. 通信契約の申込みをしようとする旅行者は、旅行業者所定の申込書に所定の事項を記入の上、旅行業者が別に定める金額の申込金とともに旅行業者に提出しなければならない。
- イ. 旅行業者は、契約の履行に当たって、手配の全部又は一部を本邦内又は本邦外の他の旅行業者、手配を業として行う者その他の補助者に代行させることがある。
- ウ. 旅行者が旅行の参加に際し、特別な配慮を必要とする旨を、契約の申込時に申し出たときは、旅行業者は可能な範囲内でこれに応じ、この申出に基づき、旅行業者が旅行者のために講じた特別な措置に要する費用は、旅行業者の負担とする。
- エ. 旅行業者は、契約において、旅行者が旅行業者の定める旅行日程に従って、運送・宿泊機関等の提供する運送、宿泊その他の旅行に関するサービスの提供を受けることができるように、手配することのみを引き受ける。

(3) 募集型企画旅行契約の部「電話等による予約」「契約締結の拒否」に関する次の記述のうち、誤っているものはどれか。

- ア. 旅行業者は、電話、郵便、ファクシミリ、インターネットその他の通信手段による契約の予約を受け付ける。この場合、予約の時点では契約は成立していない。
- イ. 旅行業者は、旅行業者の定める期間内に旅行者が申込金を提出しない場合又は会員番号等を通知しない場合は、予約がなかったものとして取り扱い、取消料に相当する額の違約料を申し受ける。
- ウ. 旅行業者は、応募旅行者数が募集予定数に達したときは、契約の締結に応じないことがある。
- エ. 旅行業者は、業務上の都合があるとの理由で、契約の締結に応じないことがある。

(4) 募集型企画旅行契約の部「契約の成立時期」「契約書面の交付」「確定書面」に関する次の記述のうち、誤っているものはどれか。

- ア. 通信契約は、旅行業者が契約の締結を承諾する旨の通知が旅行者に到達した時に成立する。
- イ. 旅行業者は、契約の成立後、旅行者から請求があったときに限り、旅行者に、旅行日程、旅行サービスの内容、旅行代金その他の旅行条件及び旅行業者の責任に関する事項を記載した書面を交付する。
- ウ. 旅行業者は、確定書面を交付する場合において、手配状況の確認を希望する旅行者から問い合わせがあったときは、確定書面の交付前であっても、迅速かつ適切にこれに回答する。
- エ. 旅行業者が確定書面を交付した場合には、旅行業者が手配し旅程を管理する義務を負う旅行サービスの範囲は、当該確定書面に記載するところに特定される。

(5) 募集型企画旅行契約の部「契約内容の変更」「旅行代金の額の変更」に関する次の記述から、正しいもののみをすべて選んでいるものはどれか。

- a. 旅行業者は、旅行業者の関与し得ない事由が生じた場合において、旅行の安全かつ円滑な実施を図るためやむを得ないときは、旅行者にあらかじめ速やかに当該事由が関与し得ないものである理由及び当該事由との因果関係を説明して、旅行日程、旅行サービスの内容その他の契約の内容を変更することがある。ただし、緊急の場合において、やむを得ないときは、変更後に説明する。
- b. 旅行業者は、旅行を実施するに当たり、利用する宿泊機関について適用を受ける料金が、著しい経済情勢の変化等により、旅行の募集の際に明示した時点の料金に比べて、通常想定される程度を大幅に超えて増額される場合においては、その増額される金額の範囲内で旅行代金の額を増加することができる。
- c. 宿泊機関が宿泊サービスの提供を行っているにもかかわらず、部屋の不足が発生したことにより、旅行業者が契約内容の一部を変更し、旅行の実施に要する費用の増加が生じる場合には、旅行業者は、当該旅行業者に過失がない場合に限り、当該契約内容の変更の際に、その費用の範囲内において旅行代金を増額することがある。
- d. 旅行業者は、運送・宿泊機関等の利用人員により旅行代金が異なる旨を契約書面に記載した場合において、契約の成立後に旅行業者の責に帰すべき事由によらず当該利用人員が変更になったときは、契約書面に記載したところにより旅行代金の額を変更することがある。

ア. a, d イ. b, c ウ. a, b, d エ. a, b, c, d

(6) 募集型企画旅行契約の部「旅行者の解除権」に関する次の記述のうち、誤っているものはどれか。

- ア. 旅行者と契約を締結した旅行者は、旅行開始前、旅行開始後にかかわらず所定の取消料を当該旅行者に支払って契約を解除することができる。
- イ. 利用する運送機関の適用運賃・料金が、著しい経済情勢の変化等により、旅行の募集の際に明示した時点において有効なものとして公示されている適用運賃・料金と比べて、通常想定される程度を大幅に超えて増額されたことにより旅行代金が増額されたときは、旅行者は旅行開始前に所定の取消料を支払うことなく契約を解除することができる。
- ウ. 航空会社の運航スケジュールの変更によって、契約書面に記載された旅行終了日が変更されたときは、旅行者は旅行開始前に所定の取消料を支払うことなく契約を解除することができる。
- エ. 旅行者が自宅から旅行の開始地である集合場所へ向かうために利用した交通機関が大幅に遅延したことにより、当該旅行への参加が不可能となったときは、当該旅行者は所定の取消料を支払うことなく契約を解除することができる。

(7) 募集型企画旅行契約の部「旅行者の解除権等－旅行開始前の解除」に関する次の記述のうち、正しいものはどれか（いずれも解除に係る旅行者への理由説明は行うものとする。）。

- ア. 旅行者は、観梅を目的とする国内日帰り旅行における必要な開花状況等の旅行実施条件であって、契約の締結の際に明示したものが成就しないおそれが極めて大きいときは、契約を解除することがある。
- イ. 旅行者は、旅行者から契約内容に関し、合理的な範囲を超える負担を求められたため契約を解除しようとするときは、国内日帰り旅行にあつては、旅行開始日の前日から起算してさかのぼって3日目に当たる日より前に、当該契約を解除する旨を当該旅行者に通知しなければならない。
- ウ. 旅行者は、2泊3日の国内旅行にあつては、旅行者の数が契約書面に記載した最少催行人員に達しなかったという事由で契約を解除しようとするときは、旅行開始日の前日から起算してさかのぼって23日目に当たる日より前に、旅行を中止する旨を旅行者に通知しなければならない。
- エ. 旅行者は、旅行者が契約書面に記載する期日までに旅行代金を支払わないときは、当該期日において旅行者が契約を解除したものとし、この場合において、旅行者は、旅行者に対し、所定の取消料に相当する額の違約料を支払わなければならない。

(8) 募集型企画旅行契約の部「旅行者の解除権－旅行開始後の解除」「契約解除後の帰路手配」に関する次の記述のうち、誤っているものはどれか（いずれも解除に係る旅行者への理由説明は行うものとする。）。

- ア. 旅行者は、旅行者が必要な介助者の不在により旅行の継続に耐えられないため、旅行開始後に契約の一部を解除したときは、旅行代金のうち当該旅行者がまだその提供を受けていない旅行サービスに係る部分に係る金額から、当該旅行サービスに対して取消料、違約料その他の既に支払い、又はこれから支払わなければならない費用に係る金額を差し引いたものを旅行者に払い戻す。
- イ. 旅行者は、添乗員が病気になったため、当該添乗員による旅程管理業務の遂行が不可能となったときは、契約の一部を解除することができる。
- ウ. 旅行者は、官公署の命令により旅行の継続が不可能となったため、旅行開始後に契約の一部を解除したときは、旅行者の求めに応じて、旅行者が当該旅行の出発地に戻るために必要な旅行サービスの手配を引き受ける。
- エ. 旅行開始後、旅行地で発生した天災地変により旅行の継続が不可能となったため、旅行者が契約の一部を解除したときは、旅行者との間の契約関係は、将来に向かってのみ消滅する。

(9) 募集型企画旅行契約の部「旅行代金の払い戻し」に関する次の記述のうち、誤っているものはどれか（いずれも通信契約でないものとする。）。

- ア. 旅行開始後に、旅行地において大雪の影響で旅行の継続が不可能となったため、旅行者が契約内容を変更し旅行日程を短縮したことにより旅行代金が減額された場合において、旅行者に対し払い戻すべき金額が生じたときは、旅行者は、契約書面に記載した旅行終了日の翌日から起算して30日以内に当該金額を旅行者に払い戻す。
- イ. 10月1日出発の3泊4日の国内旅行で旅行者が旅行開始後に病気になり、旅行の継続に耐えられないため、旅行者が旅行契約の一部を解除した場合において、旅行者に対して払い戻すべき金額が生じたときは、旅行者は、同年11月3日までに当該金額を払い戻さなければならない。
- ウ. 国内日帰り旅行において、旅行者の数が契約書面に記載した最少催行人員に達しなかったため、旅行者は旅行開始日の前日から起算してさかのぼって6日目に当たる日に旅行者に旅行を中止する旨を通知して旅行契約を解除する場合において、旅行者に対し払い戻すべき金額が生じたときは、旅行者は、旅行開始日までに当該金額を払い戻さなければならない。
- エ. 9月8日を旅行開始日とする国内旅行において、旅行者の都合により9月6日に契約を解除した場合において、旅行者に対して払い戻すべき金額が生じたときは、旅行者は9月13日までに当該旅行者に対し当該金額を払い戻さなければならない。

(10) 募集型企画旅行契約の部「団体・グループ契約」「契約責任者」に関する次の記述のうち、誤っているものはどれか。

- ア. 旅行業者は、契約責任者が団体・グループに同行しない場合、旅行開始後においては、あらかじめ契約責任者が選任した構成者を契約責任者とみなす。
- イ. 旅行契約は、通信契約を締結した場合を除き、旅行業者が契約の締結を承諾し申込金を受理した時に成立するが、団体・グループ契約の場合においては、申込金の支払いを受けることなく当該契約の締結を承諾することがある。
- ウ. 日帰りの国内旅行であって、添乗員その他の者が当該旅行に同行する場合においても、契約責任者は、旅行業者が定める日までに、構成者の名簿を旅行業者に提出しなければならない。
- エ. 旅行業者は、契約責任者が構成者に対して現に負い、又は将来負うことが予測される債務又は義務については、何らの責任を負うものではない。

(11) 募集型企画旅行契約の部「旅程管理」「旅行業者の指示」「添乗員等の業務」に関する次の記述から、正しいもののみをすべて選んでいるものはどれか。

- a. 旅行業者は、旅程管理の措置を講じたにもかかわらず旅行サービスの内容を変更するときは、変更後の旅行サービスが当初の旅行サービスと同様のものとなるよう努めること等、契約内容の変更を最小限にとどめるよう努力する。
- b. 旅行業者は、旅行の内容により添乗員その他の者を同行させて、旅程管理業務その他当該旅行に付随して旅行業者が必要と認める業務の全部を行わせることはできないが、その一部を行わせることはできる。
- c. 旅行業者は、旅行者の安全かつ円滑な旅行の実施を確保することに努力し、旅行者が旅行中に旅行サービスを受けることができないおそれがあると認められるときは、契約に従った旅行サービスの提供を確実に受けられるために必要な措置を講ずる。
- d. 旅行者は、旅行開始後旅行終了までの間において、団体で行動するときは、旅行を安全かつ円滑に実施するための旅行業者の指示に従わなければならない。

ア. a, b イ. c, d ウ. a, c, d エ. a, b, c, d

(12) 募集型企画旅行契約の部「旅行業者の責任」「旅行者の責任」に関する次の記述のうち、正しいものはどれか。

- ア. 旅行者の過失により旅行業者が損害を被ったときは、当該旅行者は、旅行業者に対し、15万円を限度（当該旅行者に重大な過失があった場合を除く。）として賠償しなければならない。
- イ. 旅行業者は、運送機関の運送サービス提供の中止により旅行者が損害を被ったときは、いかなる場合においてもその損害を賠償する責任を負わない。
- ウ. 旅行者は、旅行開始後において、契約書面に記載された旅行サービスを円滑に受領するため、万が一契約書面と異なる旅行サービスが提供されたと認識したときは、旅行終了後速やかにその旨を旅行業者に申し出なければならない。
- エ. 旅行業者は、契約の履行に当たって、旅行業者の故意又は過失により旅行者に損害（手荷物について生じた損害を除く。）を与えたときは、損害発生の日から起算して2年以内に旅行者から当該旅行業者に対して通知があったときに限り、その損害を賠償する責に任じる。

(13) 受注型企画旅行契約の部に関する次の記述のうち、正しいものはどれか。

- ア. 旅行業者は、企画書面において、旅行代金の内訳として企画料金の金額を明示した場合、旅行者から当該書面に記載された企画の内容に関して、契約の申込みがなかった場合であっても、当該旅行者から企画料金を収受することができる。
- イ. 旅行者は、旅行業者に対し、旅行日程、旅行サービスの内容その他の契約の内容を変更するよう求めることができるが、その結果、旅行代金が増額されたときは、当該増額分に加えて変更手数料金も当該旅行者の負担とする。
- ウ. 「受注型企画旅行」とは、旅行業者が、旅行者からの依頼により、旅行の目的地及び日程、旅行者が提供を受けることができる運送又は宿泊のサービスの内容並びに旅行者が旅行業者に支払うべき旅行代金の額を定めた旅行に関する計画を作成し、これにより実施する旅行をいう。
- エ. 旅行業者は、旅行中の旅行者が、疾病、傷害等により保護を要する状態にあると認めるときは、必要な措置を講ずることがある。この場合において、当該措置に要した費用は、当該旅行業者の責任の有無にかかわらず、旅行業者が負担する。

(14) 募集型企画旅行契約の部及び受注型企画旅行契約の部「旅程保証」に関する次の記述のうち、正しいものはどれか（いずれも変更補償金を支払う場合に、その額は約款が定める支払いが必要な最低額を上回っているものとする。）。

- ア. 旅行業者は、変更補償金の支払いが必要となる契約内容の重要な変更が生じた場合、当該変更が生じた日から起算して30日以内に変更補償金を旅行者に支払わなければならない。
- イ. 旅行業者が旅行者に変更補償金を支払った後に、当該契約内容の重要な変更について旅行業者に責任が発生することが明らかになった場合には、旅行業者は当該変更に係る変更補償金に加え損害賠償金を支払わなければならない。
- ウ. 旅行業者は、旅行者から契約内容の重要な変更があった旨の申出を受けた場合に限り、変更補償金を支払わなければならない。
- エ. 旅行業者が、変更補償金の支払いが必要となる契約内容の重要な変更が1件生じたことを旅行開始日に旅行者に通知した場合、旅行業者は、旅行代金に約款に定める旅行開始後の1件あたりの率を乗じた額以上の変更補償金を旅行者に対して支払わなければならない。

(15) 募集型企画旅行契約の部及び受注型企画旅行契約の部「旅程保証」に関する次の記述のうち、変更補償金の支払いを要するものはどれか。（いずれも変更補償金を支払う場合に、その額は約款が定める支払いが必要な最低額を上回っているものとする。）。

- ア. 確定書面に「伊丹空港発 奄美空港行き A航空直行便」と記載したが、航空会社の過剰予約受付により、「A航空の伊丹空港発 鹿児島空港乗り継ぎで奄美空港着」に変更したとき。
- イ. 利用予定列車が沿線火災の影響により大幅に遅延したため、目的地への到着が夕刻になり、確定書面に記載した美術館への入場ができなかったとき。
- ウ. 旅行者の生命又は身体の安全確保のために必要な措置を講じたことにより、確定書面に利用ホテルとして記載したCホテルを、契約書面に記載のないDホテルに変更したとき。
- エ. 確定書面には利用航空会社として「A航空のエコノミークラス」と記載したが、旅行開始後にA航空の過剰予約受付により座席の不足が発生したため、契約書面に記載のある「B航空のエコノミークラス」に変更したとき。

(16) 募集型企画旅行契約の部及び受注型企画旅行契約の部「特別補償」「特別補償規程」に関する次の記述のうち、誤っているものはどれか。

- ア. 旅行業者は、当該旅行業者の責任が生じるか否かを問わず、特別補償規程で定めるところにより、旅行者が企画旅行参加中にその生命、身体又は手荷物の上に被った一定の損害について、あらかじめ定める額の補償金及び見舞金を支払う。
- イ. 特別補償規程に基づく旅行業者の補償金支払義務は、旅行業者が損害賠償責任に基づく損害賠償金を支払う場合、その損害賠償金に相当する額だけ縮減する。
- ウ. 添乗員、旅行業者の使用人又は代理人による受付が行われない場合において、旅行者がサービスの提供を受ける最初の運送・宿泊機関等が船舶であるときは、当該船舶乗船時から企画旅行参加中となる。
- エ. 旅行者が企画旅行参加中の事故により傷害を被り、その直接の結果として入院し、事故の日から180日以内に後遺障害が生じた場合、旅行業者は後遺障害補償金に加えて入院見舞金を支払う。

(17) 募集型企画旅行契約の部及び受注型企画旅行契約の部「特別補償規程」に関する次の記述から、入院見舞金、通院見舞金又は携帯品損害補償金の支払いの対象となるものをすべて選んでいるものはどれか。

- (注1) 旅行業者が入院見舞金又は通院見舞金の支払いを要する場合において、それ以外に支払うべき補償金等はないものとする。
- (注2) 携帯品損害補償金を支払う場合は、約款に定める支払いが必要な最低額を上回っているものとする。

- a. 国内企画旅行の日程に含まれている山岳登山中（ピッケル、アイゼン等の登山用具を使用するもの）に発生した大地震による落石事故によって被った傷害による30日間の入院
- b. 国内企画旅行に参加中の旅行者が、その自由行動日に、法令に定められた運転資格を持たないで自動車を運転している間に生じた事故により、当該旅行者以外の当該企画旅行参加中の旅行者が巻き添えとなって被った傷害による7日間の入院
- c. 自由行動中に誤って落したことにより、機能に支障をきたしたデジタルカメラ
- d. 野球観戦ツアーに参加中の旅行者が、野球場の座席に置き忘れた双眼鏡

- ア. a, b イ. a, c ウ. b, c エ. a, b, d

(18) 手配旅行契約の部に関する次の記述のうち、誤っているものはどれか。

- ア。「旅行代金」とは、旅行業者が旅行サービスを手配するために、運賃、宿泊料その他の運送・宿泊機関等に対して支払う費用及び旅行業者所定の旅行業務取扱料金（変更手数料及び取消手数料金を除く。）をいう。
- イ。旅行業者は、運送サービスの手配のみを目的とする契約であって、旅行代金と引換えに当該運送サービスの提供を受ける権利を表示した書面を交付するものについては、口頭による申込みを受け付けることがある。この場合において、契約は、旅行業者が契約の締結を承諾した時に成立するものとする。
- ウ。旅行業者は、書面による特約をもって、申込金の支払いを受けることなく、契約の締結の承諾のみにより契約を成立させることがある。
- エ。「手配旅行契約」とは、旅行業者が旅行者の委託により、旅行者のために代理、媒介又は取次をすること等により旅行者が運送・宿泊機関等の提供する運送、宿泊その他の旅行に関するサービスの提供を受けることができるように、手配し、旅程を管理することを引き受ける契約をいう。

(19) 手配旅行契約の部に関する次の記述から、誤っているもののみをすべて選んでいるものはどれか。

- a. 旅行開始前に運送機関の運賃・料金の改訂により旅行代金の変動を生じ、旅行業者によって旅行代金が増額されたときは、旅行者は、旅行業者が得るはずであった取扱料金を支払うことなく、契約を解除することができる。
- b. 旅行業者は、契約責任者からの求めにより、団体・グループに添乗員を同行させることがあるが、添乗員が行う添乗サービスの内容は、原則として、あらかじめ定められた旅行日程上、団体・グループ行動を行うために必要な業務とする。
- c. 旅行業者は、旅行業者が手配するすべての旅行サービスについて乗車券類、宿泊券その他の旅行サービスの提供を受ける権利を表示した書面を旅行者に交付するときは、必ず契約書面を交付しなければならない。
- d. 旅行者の都合により旅行開始前に契約が解除されたときは、旅行者はいまだ提供を受けていない旅行サービスに係る取消料、違約料その他の運送・宿泊機関等に対して既に支払い、又はこれから支払う費用を負担するほか、旅行業者に対し、旅行業者所定の取消手数料及び旅行業者が得るはずであった取扱料金を支払わなければならない。

ア. a, c イ. b, d ウ. a, b, c エ. a, b, c, d

(20) 旅行相談契約の部に関する次の記述のうち、誤っているものはどれか。

- ア. 旅行業者は、契約の成立後すみやかに、旅行者に当該契約に係る相談内容、相談料金及びその收受の方法、旅行業者の責任その他の必要な事項を記載した書面を交付しなければならない。
- イ. 旅行業者は、契約の履行に当たって、旅行業者が故意又は過失により旅行者に損害を与えたときは、その損害発生の翌日から起算して6月以内に当該旅行業者に対して通知があったときに限り、その損害を賠償する責に任じる。
- ウ. 旅行業者が、相談料金を收受することを約して、旅行者の委託により旅行地及び運送・宿泊機関等に関する情報提供のみを行う業務を引き受けることは、旅行相談契約に該当する。
- エ. 旅行業者が、旅行者から電話による旅行相談契約の申込みを受け付ける場合、契約は、当該旅行業者が当該契約の締結を承諾した時に成立する。

2. 一般貸切旅客自動車運送事業標準運送約款に関する次の記述のうち、誤っているものを1つ選びなさい。

- ア. バス会社は、バス会社の自動車の運行上の過失によって、旅客の生命又は身体を害したときは、これによって生じた損害を賠償する責に任じるが、その場合において、バス会社の旅客に対する責任は、その損害が車内において、又は旅客の乗降中に生じた場合に限られる。
- イ. バス会社は、旅行業者が企画旅行の実施のため、バス会社に旅客の運送を申し込む場合には、当該旅行業者を契約責任者として運送契約を締結する。
- ウ. バス会社は、天災その他の事由により輸送の安全の確保に支障が生ずるおそれがあるときには、運行行程の変更、一時待機、運行の中止その他の措置を講ずることがある。
- エ. 運送契約は、旅客から運送申込書の提出があり、バス会社がこれを受理したときに成立する。

3. 海上運送法第9条第3項の規定に基づく標準運送約款（フェリーを含む一般旅客定期航路事業に関する標準運送約款）に関する次の記述のうち、誤っているものを1つ選びなさい。

- ア. フェリー会社は、手回り品その他旅客の保管する物品の滅失、又は損傷により生じた損害については、フェリー会社又はその使用人に過失があったことが証明された場合に限り、旅客1人につき15万円を限度とし、これを賠償する責任を負う。
- イ. 旅客は、乗下船その他船内における行動に関し、船員等が輸送の安全確保と船内秩序の維持のために行う職務上の指示に従わなければならない。
- ウ. 旅客が自ら携帯又は同伴して船室に持ち込む物であって、3辺の長さの和が2メートル以下で、かつ、重量が30キログラム以下の物品は、約款に規定する「手回り品」に該当する。
- エ. フェリー会社は、旅客の乗船後に乗船券の通用期間が経過した場合は、そのまま継続して乗船する間に限り、当該乗船券の通用期間は、その間延長されたものとみなす。

4. 旅客鉄道会社（JR）の旅客営業規則に関する次の記述のうち、正しいものを1つ選びなさい。

- ア. 「乗車券類」とは、乗車券、急行券、特別車両券、寝台券及び座席指定券のみをいう。
- イ. 小児のグリーン料金、寝台料金は、大人のグリーン料金、寝台料金の半額である。
- ウ. 旅客の運送等の契約は、その成立について別段の意思表示があった場合を除き、旅客等が所定の運賃・料金を支払い、乗車券類等その契約に関する証票の交付を受けた時に成立する。
- エ. 旅客は、小犬・猫・はと又はこれらに類する小動物（猛獣及びへびの類を除く。）であって、所定の条件を満たす場合に限り、持込区間・持込日その他持込に関する必要事項を申し出たうえで、旅客鉄道会社の承諾を受けた場合は、無料で車内に持ち込むことができる。

5. モデル宿泊約款に関する次の記述のうち、誤っているものを1つ選びなさい。

- ア. 宿泊客がフロントに預けた現金及び貴重品については、ホテル（旅館）が、その種類及び価額の明告を求めた場合であって、宿泊客がそれを行わなかったときは、ホテル（旅館）は、いかなる場合もその損害を賠償しない。
- イ. ホテル（旅館）は、宿泊客の手荷物が、宿泊に先立ってホテル（旅館）に到着した場合は、その到着前に当該ホテル（旅館）が了解したときに限って責任をもって保管し、宿泊客がフロントにおいてチェックインする際に当該手荷物を渡す。
- ウ. 宿泊客が、宿泊中に宿泊契約の申込みの際に申し出ていた宿泊日を超えて宿泊の継続を申し入れた場合、ホテル（旅館）は、その申し出がなされた時点で新たな宿泊契約の申込みがあったものとして処理する。
- エ. ホテル（旅館）は、宿泊客が連絡をしないで宿泊日当日の所定の時刻、又はあらかじめ明示された到着予定時刻を一定の時間経過しても到着しないときは、その宿泊契約は当該宿泊客により解除されたものとみなして処理することがある。

6. 国内旅客運送約款（全日本空輸）に関する次の記述のうち、誤っているものを1つ選びなさい。

- ア. 手荷物到着の翌日から起算して7日間を経過しても引き取りがない場合には、会社は当該手荷物を適宜処分することがあり、この場合における損害及び費用はすべて旅客の負担となる。
- イ. 手荷物運送における会社の責任は、手荷物1個につき総額金15万円の額を限度とする。
- ウ. 会社は、手荷物の受託時に発行された手荷物合符の持参人が、当該手荷物の正当な受取人であるか否かを確かめなかったことにより旅客に損害が生じたとしても、当該会社は賠償の責に任じない。
- エ. 旅客に同伴される飼い馴らされた小犬、猫、小鳥等の愛玩動物について、会社は、預入手荷物として運送を引き受け、旅客は会社が別に定める料金を支払わなければならない。

3 国内旅行実務

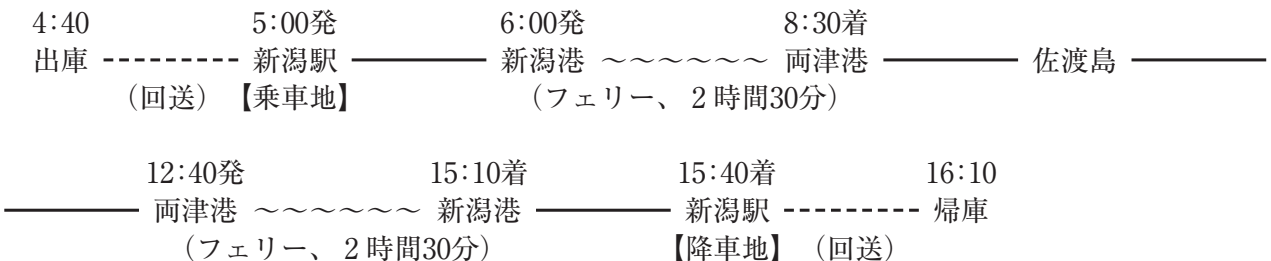
1. 貸切バス及びフェリーによる運送に関する以下の各設問について、それぞれ選択肢の中から答を1つ選びなさい。

次の内容で小型車の貸切バス（本設問において、以下「小型バス」という。）1台とフェリーを利用するとき、契約責任者が負担するこの利用に係る費用について、資料に基づきそれぞれ選択肢の中から答を1つ選びなさい。

- (注1) 「一般貸切旅客自動車運送事業標準運送約款」「海上運送法第9条第3項の規定に基づく標準運送約款（フェリーを含む一般旅客定期航路事業に関する標準運送約款）」によるものとする。
(注2) 小型バスの運賃・料金は、「一般貸切旅客自動車運送事業の運賃・料金の変更命令について（平成26年3月26日付 北陸信越運輸局長公示）」によるものとし、運賃の種類は時間・キロ併用制運賃とする。
(注3) この利用に係る小型バスの運賃及びフェリーの運賃には割引はないものとする。
(注4) この利用に係る小型バスの運転者は1人とする。
(注5) この小型バスはこのフェリーで航送する。
(注6) この小型バスの運賃・料金の計算にあたり、消費税の計算は行わないものとする。

〈行程〉

7月1日（土）



〈資料〉

- この小型バスの走行距離は44キロであり、回送距離の合計12キロを含んでいる。
- この小型バスの走行時間は11時間30分であり、回送時間を含んでいる。
- この小型バスを利用する旅客の数は、大人6人・小学4年生3人・3歳の小児3人の計12人であり、このフェリーでは12人全員が1等船室（イス席）をそれぞれ利用する。
- この小型バスの運転者はこのフェリーの2等船室に乗船するものとする。

(1) この小型バスの運賃及び料金に関する記述のうち、正しいものはどれか。

- ア. 運賃は「11時間分の時間制運賃」と「30キロ分のキロ制運賃」の合計額、料金は不要である。
イ. 運賃は「12時間分の時間制運賃」と「40キロ分のキロ制運賃」の合計額、料金は「3時間分の深夜早朝運行料金」が必要である。
ウ. 運賃は「13時間分の時間制運賃」と「44キロ分のキロ制運賃」の合計額、料金は「2時間分の深夜早朝運行料金」が必要である。
エ. 運賃は「14時間分の時間制運賃」と「50キロ分のキロ制運賃」の合計額、料金は「1時間分の深夜早朝運行料金」が必要である。

(2) このフェリーの乗船1回当たりの運賃に関する記述のうち、正しいものはどれか。

- ア. 「大人6人分と小児6人分の1等旅客運賃」と「小型バス1台分の自動車航送運賃」と「小型バス運転者1人分の2等旅客運賃」が必要である。
- イ. 「大人6人分と小児6人分の1等旅客運賃」と「小型バス1台分の自動車航送運賃」が必要である。
- ウ. 「大人6人分と小児3人分の1等旅客運賃」と「小型バス1台分の自動車航送運賃」と「小型バス運転者1人分の2等旅客運賃」が必要である。
- エ. 「大人6人分と小児3人分の1等旅客運賃」と「小型バス1台分の自動車航送運賃」が必要である。

2. 宿泊に関する次の記述のうち、資料に基づき、正しいものを1つ選びなさい。

- (注1) モデル宿泊約款によるものとする。
- (注2) 入湯税及び宿泊税は課税されないものとする。
- (注3) 選択肢ア. は、宿泊客に違約金の支払義務がある宿泊契約とする。
- (注4) 選択肢イ. は、宿泊客に追加料金は発生していないものとする。
- (注5) 選択肢ウ. は、宿泊施設が客室の延長使用に応じたものとし、サービス料及び消費税等諸税の計算を行わないものとする。
- (注6) 選択肢エ. は、宿泊契約が成立したとき、宿泊施設は指定期日までに申込金の支払いを宿泊客に求めるものとする。

〈資料〉

この設問における宿泊施設は、以下のとおりに定めている。

- 旅館の場合
 - 基本宿泊料：大人1人あたり1泊2食付20,000円
 - サービス料：15%
 - 消費税：10%
 - 宿泊契約解除の通知を受けた日が宿泊日の前日であるときの違約金の比率：30%
- ホテルの場合
 - 基本宿泊料：シングルルーム（定員1人）1室あたり10,000円
 - サービス料：15%
 - チェックイン：午後3時
 - チェックアウト：午前10時

- ア. この旅館に大人1人が1泊する宿泊契約を、宿泊客の都合により宿泊日の前日に解除したとき、この旅館は6,900円の違約金を申し受ける。
- イ. この旅館に大人1人と子供用の食事と寝具の提供を伴う7歳の小学生の1人の計2人が1泊するとき、この宿泊客が支払うべき宿泊料金等の総額は37,500円である。
- ウ. 宿泊客がこのホテルのシングルルームを、午後4時30分まで延長して使用したときの時間外追加料金は、5,000円である。
- エ. このホテルのシングルルームに、宿泊客と宿泊期間を4日とする宿泊契約が成立したとき、このホテルは申込金を30,000円とすることができる。

3. 旅客鉄道会社（JR）に関する以下の各設問について、それぞれ選択肢の中から答を1つ選びなさい。

(1) 乗継割引に関する次の記述のうち、正しいものはどれか。


(注1) 乗車に必要な乗車券類は、いずれも最初の列車の乗車前に全て同時に購入するものとする。



(注2) それぞれの列車の乗車区間内では途中下車しないものとする。

(注3) 選択肢ア. イ. の乗車日は2日にまたがり、選択肢ウ. エ. の乗車日は1日とする。



(注4) 選択肢ア. イ. エ. に記載する金額は、記載の利用座席における大人の所定料金の額を示している。


ア. 特急「つがる」の特急料金に乗継割引が適用される。

乗車日（1日目） 乗車区間・列車：秋田駅  新青森駅
特急「つがる」
〈普通車自由席〉
自由席特急料金1,760円



乗車日（2日目） 乗車区間・列車：新青森駅  新函館北斗駅  長万部駅
新幹線「はやぶさ」 特急「北斗」
〈普通車指定席〉 〈普通車指定席〉
指定席特急料金1,680円

イ. 特急「やくも」の特急料金に乗継割引が適用される。



乗車日（1日目） 乗車区間・列車：別府駅  小倉駅  岡山駅
特急「ソニック」 新幹線「さくら」
〈普通車指定席〉 〈普通車自由席〉
指定席特急料金2,330円

乗車日（2日目） 乗車区間・列車：岡山駅  松江駅
特急「やくも」
〈普通車指定席〉
指定席特急料金2,730円

ウ. 特急「ひたち」の特急料金に乗継割引が適用される。

勝田駅  東京駅  長岡駅
特急「ひたち」 新幹線「とき」
〈普通車指定席〉 〈普通車指定席〉

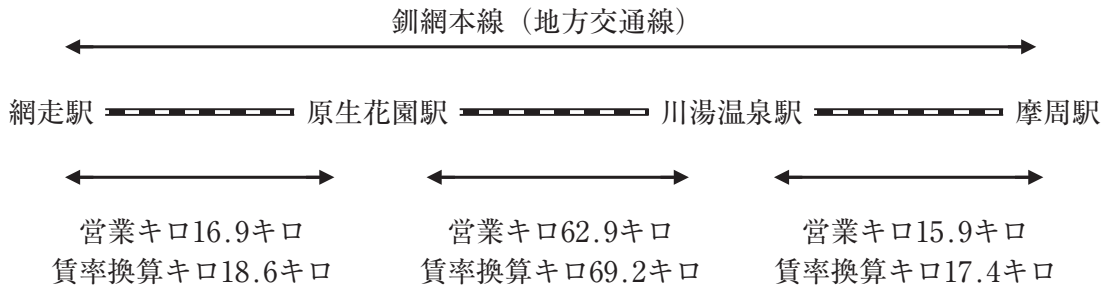
エ. 特急「サンダーバード」のグリーン料金に乗継割引が適用される。

鯖江駅  金沢駅  東京駅
特急「サンダーバード」 新幹線「かがやき」
〈グリーン席〉 〈グランクラス〉
グリーン席利用時の特急料金1,200円
グリーン料金1,300円

(2) 大人1人が次の経路による行程を乗車するために必要な乗車券に関する次の記述のうち、正しいものはどれか。

(注) この行程の乗車に必要な乗車券は、最初の列車の乗車前に購入するものとする。

〈行程〉



7月1日 網走駅から原生花園駅まで途中下車しないで乗車する。

原生花園駅では改札口から出場して周辺を観光する。

7月1日 原生花園駅から川湯温泉駅まで途中下車しないで乗車する。

川湯温泉駅では改札口から出場して周辺に2泊する。

7月3日 川湯温泉駅から摩周駅まで途中下車しないで乗車する。

ア. 7月1日と7月3日の全乗車区間分として「16.9キロ+62.9キロ+15.9キロ=95.7キロ」の乗車距離による乗車券1枚が必要である。

イ. 7月1日の乗車分として「18.6キロ」の乗車距離による乗車券1枚と「69.2キロ」の乗車距離による乗車券1枚、7月3日の乗車分として「17.4キロ」の乗車距離による乗車券1枚の計3枚の乗車券が必要である。

ウ. 7月1日の乗車分として「16.9キロ」の乗車距離による乗車券1枚と「62.9キロ」の乗車距離による乗車券1枚、7月3日の乗車分として「15.9キロ」の乗車距離による乗車券1枚の計3枚の乗車券が必要である。

エ. 7月1日と7月3日の全乗車区間分として「18.6キロ+69.2キロ+17.4キロ=105.2キロ」の乗車距離による乗車券1枚が必要である。

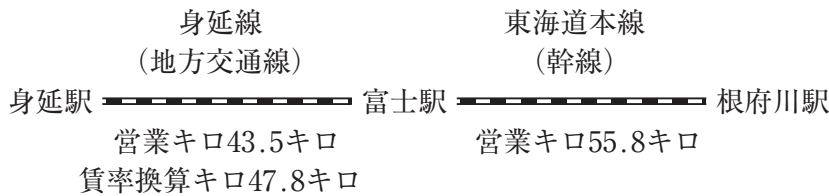
(3) 次の行程で旅客が乗車する場合について、各設問に該当する答を、それぞれの選択肢の中から1つ選びなさい。

(注1) 富士駅では、最初の列車の乗車日当日に乗り継ぐものとする。

(注2) 乗車に必要な乗車券類は途中下車しないものとして、最初の列車の乗車前の所定の期間内に購入するものとする。

(注3) 設問②ウ. の訪日観光客は、日本国在外外交官・入国審査官・一般社団法人日本旅行業協会会長又は一般社団法人全国旅行業協会会長において発行した訪日観光団体であることの証明書を所持するものとする。

〈行程〉



① 大人1人が乗車するとき、片道普通旅客運賃の計算に関する次の記述のうち、正しいものはどれか。

ア. 運賃は、「43.5キロ+55.8キロ=99.3キロ」を使用して計算した額となる。

イ. 運賃は、「47.8キロ+55.8キロ=103.6キロ」を使用して計算した額となる。

ウ. 運賃は、「43.5キロ」を使用した額と、「55.8キロ」を使用した額を合計した額となる。

エ. 運賃は、「47.8キロ」を使用した額と、「55.8キロ」を使用した額を合計した額となる。

② この行程における普通乗車券及び指定席特急券に関する次の記述のうち、正しいものはどれか。

ア. 中学生以上の指定学校の学生又は生徒が「学生・生徒旅客運賃割引証」を提示して、普通乗車券を購入するときは、大人普通旅客運賃が2割引になる。

イ. 中学生以上の指定学校の学生又は生徒が8人以上と、当該学校の教職員によって構成され、当該学校の教職員が引率する団体が、身延駅から富士駅間を特急「ふじかわ」に乗車する場合において、指定席特急券を購入するときは、当該特急料金は5割引になる。

ウ. 訪日観光客8人とこれと同行する旅行者とによって構成され、責任ある代表者が引率する訪日観光団体が普通乗車券を購入するときは、大人普通旅客運賃が1割5分引になる。

エ. 学生団体及び訪日観光団体ではない20人の旅客が一緒に旅行するとき、1人分の運賃が無料になる。

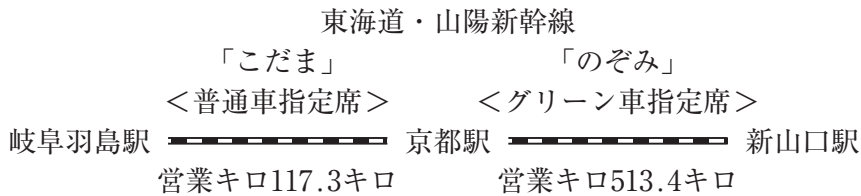
(4) 次の経路による行程で大人1人が乗車するとき、新幹線の特急料金とグリーン料金の額の組合せについて、資料に基づき、正しいものを1つ選びなさい。

(注1) 京都駅では新幹線の改札口を出ないで、「のぞみ」に乗り継ぐものとする。

(注2) この行程の乗車に必要な乗車券類は、最初の列車の乗車前に全て購入するものとする。

〈行程〉

7月15日(土) 繁忙期



〈資料〉

■東海道・山陽新幹線〔ひかり〕〔こだま〕普通車指定席特急料金(通常期)

岐阜羽島		
3,060円	京都	
5,920円	5,490円	新山口

■東海道・山陽新幹線〔のぞみ〕普通車指定席特急料金(通常期)

京都		
6,340円	新山口	

■東海道・山陽新幹線のグリーン料金

営業キロ	100キロまで	200キロまで	400キロまで	600キロまで	800キロまで	801キロ以上
グリーン料金	1,300円	2,800円	4,190円	5,400円	6,600円	7,790円

ア. 特急料金 $5,920円 + (6,340円 - 5,490円) + 200円 - 530円 =$ 6,440円
 グリーン料金 5,400円

イ. 特急料金 $5,920円 + (6,340円 - 5,490円) + 200円 =$ 6,970円
 グリーン料金 5,400円

ウ. 特急料金 $(3,060円 + 200円 - 530円) + (6,340円 + 200円 - 530円) =$ 8,740円
 グリーン料金 6,600円

エ. 特急料金 $(3,060円 + 200円) + (6,340円 + 200円) =$ 9,800円
 グリーン料金 6,600円

- (5) 大人1人、12歳の小学生1人、3歳の幼児1人の計3人の家族が、3つの席を使用して特急列車の普通車指定席に乗車する場合において、この乗車に必要な運賃及び料金の組合せに関する次の記述のうち、正しいものはどれか。

(注) 乗車に必要な乗車券類は、列車の乗車前に一括して購入するものとする。

- ア. この乗車に必要な運賃及び料金は、「1人分の大人運賃と1人分の大人指定席特急料金」、「2人分の小児運賃と2人分の小児指定席特急料金」である。
- イ. この乗車に必要な運賃及び料金は、「1人分の大人運賃と1人分の大人指定席特急料金」、「1人分の小児運賃と2人分の小児指定席特急料金」である。
- ウ. この乗車に必要な運賃及び料金は、「2人分の大人運賃と2人分の大人指定席特急料金」、「1人分の小児指定席特急料金」である。
- エ. この乗車に必要な運賃及び料金は、「2人分の大人運賃と2人分の大人指定席特急料金」、「1人分の小児運賃と1人分の小児指定席特急料金」である。

- (6) 旅客鉄道会社（JR）に関する次の記述のうち、誤っているものを1つ選びなさい。

- ア. 自転車は、手回り品に関する要件を満たしたうえで、解体し専用の袋に収納したもの又は折りたたみ式自転車においては折りたたんで専用の袋に収納したものは無料で車内に持ち込むことができる。
- イ. 普通乗車券を所持する旅客が、当該普通乗車券を紛失した場合、その旨を申告し、再度同じ普通乗車券を購入し、再購入した券面に「紛失再」の表示を受けた上で、旅行終了駅にて「再収受証明」を受ける。その翌日、紛失券を発見し同日中に紛失券と「再収受証明」のある普通乗車券の両方をつけて請求したときは、発見した普通乗車券について、手数料220円を支払うことで、「再収受証明」のある普通乗車券の運賃の払いもどしを受けることができる。
- ウ. 特急「あずさ」の指定席特急券を所持する旅客が、旅客の都合により指定の列車に乗り遅れたとき、当該指定された列車の乗車日と同じ日であれば後続の特急列車の立席又は普通車の空席がある場合は空席を利用することができる。
- エ. 特急券と寝台券を1枚で発行した指定券を当該列車出発前日に払い戻す場合の払いもどし手数料は、特急券の払いもどし手数料と寝台券の払いもどし手数料の合計額である。

4. 全日本空輸の国内線において、次の航空便を利用する場合における各設問に該当する答を、選択肢の中からそれぞれ1つ選びなさい。

- (注1) 旅客が所持する航空券は、利用する航空便の該当運賃での座席予約がなされているものとする。
- (注2) 座席予約の変更を行う場合において、変更の申出時点における変更先の航空便の該当座席に空席があるものとする。
- (注3) 座席予約の変更、座席予約の取消し、航空券の払戻しは、旅客の都合によるものとし、その申出は、航空会社の事業所の営業時間内に行うものとする。
- (注4) 航空券の払戻しは、当該航空券の払戻期間内に行うものとする。
- (注5) 年齢は搭乗日現在とする。

(1) 次の航空便の利用に関する記述のうち、正しいものはどれか。

<利用する航空便>

令和5年6月10日(土) 仙台空港(17:35発) ————— 伊丹空港(18:55着) ANA738便

- ア. プレミアム運賃を適用した航空券を所持する旅客が、搭乗当日の17:35までに変更を申し出ることなく搭乗当日の17:50に仙台空港において当該航空便の次の航空便である18:55に仙台空港を出発するANA740便のプレミアムクラスへの座席予約の変更を申し出た。この場合、当該航空券を利用して座席予約を変更し搭乗することができる。
- イ. ANA VALUE 1 (ANAバリュー1) を適用して、令和5年6月9日(金)に座席予約の申込みを行った。この場合の航空券の購入期限は搭乗当日の17:15である。
- ウ. ANA VALUE PREMIUM 3 (ANAバリュープレミアム3) を適用した航空券を所持する旅客が、搭乗当日の15:35に航空会社の事業所において当該航空便の次の航空便である18:55に仙台空港を出発するANA740便のプレミアムクラスへの座席予約の変更を申し出た。この場合、当該航空券を利用して座席予約を変更し搭乗することはできない。
- エ. ANA SUPER VALUE 21 (ANAスーパーバリュー21) を適用して、令和5年5月10日(水)に座席予約の申込みを行ったところ当該運賃での座席が満席であり、当該旅客が当該運賃を適用する「空席待ち」を申し出た。この場合、航空会社は令和5年5月20日(土)まで「空席待ち」とすることができる。

(2) ANA FLEX (ANAフレックス) 及び小児運賃並びに幼児の無償運送の制度に照らし合わせて、大人1人、満10歳の小学生1人、満2歳の幼児2人の計4人の家族が航空機を利用するときの、航空券の購入方法に関する次の記述のうち、正しいものはどれか。

- ア. ANA FLEX 1人分と小児運賃1人分の航空券を購入し、幼児2人は幼児の無償運送の制度を利用する。
- イ. ANA FLEX 1人分と小児運賃2人分の航空券を購入し、幼児1人は幼児の無償運送の制度を利用する。
- ウ. ANA FLEX 2人分の航空券を購入し、幼児2人は幼児の無償運送の制度を利用する。
- エ. ANA FLEX 2人分と小児運賃1人分の航空券を購入し、幼児1人は幼児の無償運送の制度を利用する。

5. 以下の各設問について、該当する答を、選択肢の中からそれぞれ1つ選びなさい。

(1) 札幌市街地や石狩平野を見渡すことができ、ウィリアム・スミス・クラーク博士の銅像があることでも知られる展望台は、次のうちどれか。

ア. サイロ展望台 イ. 羊ヶ丘展望台 ウ. 地球岬展望台 エ. 三愛の丘展望公園

(2) 十和田湖南の玄関口にあり、正面に十和田カルデラの御鼻部山、さらにその後方には南八甲田の山々ものぞめる峠は、次のうちどれか。

ア. 狩勝峠 イ. 仁田峠 ウ. 発荷峠 エ. 鍵掛峠

(3) 美保湾に面した弓ヶ浜半島の東端にあり、米子の奥座敷と呼ばれる温泉は、次のうちどれか。

ア. 三朝温泉 イ. 湯郷温泉 ウ. 皆生温泉 エ. 川棚温泉

(4) 沖縄本島最南端に位置し、平和祈念公園やひめゆりの塔などがあり、数多くの戦跡やグスクなどの史跡が点在している観光地は、次のうちどれか。

ア. 糸満 イ. 那覇 ウ. 恩納村 エ. コザ

(5) 東京湾にある自然島で、レンガ積み of トンネルや砲台跡など旧軍施設が残る島は、次のうちどれか。

ア. 利島 イ. 初島 ウ. 猿島 エ. 八景島

(6) 湾の中央には蓬莱島があり、大小さまざまな入り江からなる能登半島国定公園内のリアス海岸は、次のうちどれか。

ア. 英虞湾 イ. 九十九湾 ウ. 舞鶴湾 エ. 野付湾

(7) 日本最大級の常設展示スペースを有しており、古代壁画から現代絵画まで、約1,000点の世界の名画が、特殊技術によって陶板で原寸大に再現されていることでも知られる鳴門市にある美術館は、次のうちどれか。

ア. 地中美術館 イ. 足立美術館 ウ. 大塚国際美術館 エ. 大原美術館

6. 次の文章を読み、以下の各設問について該当する答を、選択肢の中からそれぞれ1つ選びなさい。

「城」は、天守など外観の美しさや、それぞれの城で趣向を凝らした塀や堀の造り、また、城にまつわる歴史などさまざまな魅力があり、多くの観光客を集めている。

ねぷたまつりの開催される地域にあり桜の名所として春には多くの観光客が訪れる公園のなかにある **A** や、月明かりに浮かび上がるその姿が琵琶湖八景の1つに数えられる(a)彦根城、北アルプスの山々を借景として堀に天守を映す(b)松本城は、歴史と自然が調和した地域を代表する観光資源として人気が高い。

他にも、1993年世界文化遺産に登録された(c)姫路城や、最上階の望楼から宍道湖が一望できる(d)松江城、内堀から天守にかけて積み重ねられた石垣が“扇の勾配”と呼ばれる特長的で見事な曲線を描く(e)丸亀城など、その景観とともに城の歴史や技術の高さなども人気の一因となっている。

(1) **A** に入る城として最も適当なものは、次のうちどれか。

- ア. 松前城 イ. 中津城 ウ. 弘前城 エ. 白石城

(2) 下線(a)と同じ都道府県の郷土料理・名産品として最も適当なものは、次のうちどれか。

- ア. 小鯛のささ漬 イ. ます寿し ウ. ままかり エ. 鮒ずし

(3) 下線(b)と同じ都道府県で行われる代表的な祭りとして最も適当なものは、次のうちどれか。

- ア. 吉田の火祭り イ. 御柱祭 ウ. 黒船祭 エ. 郡上おどり

(4) 下線(c)と同じ都道府県の名産品として最も適当なものは、次のうちどれか。

- ア. 出石焼 イ. 益子焼 ウ. 九谷焼 エ. 赤膚焼

(5) 下線(d)の別名は、次のうちどれか。

- ア. 青葉城 イ. 霞ヶ城 ウ. 鯉城 エ. 千鳥城

(6) 下線(e)と同じ都道府県にある景勝地は、次のうちどれか。

- ア. 大歩危・小歩危 イ. 寒霞溪 ウ. 面河溪 エ. 帝釈峡

7. 日本国内における世界遺産・ラムサール条約・国立公園に関する以下の設問について、該当する答を、選択肢の中からそれぞれ1つ選びなさい。

(1) 世界文化遺産「石見銀山遺跡とその文化的景観」に関する次の記述のうち、誤っているものはどれか。

- ア. 世界文化遺産に登録されたのは2007年である。
- イ. 玉造温泉は構成資産のひとつであり、銀山とその周辺地域の支配における政治的中心地として活況を呈した。
- ウ. 構成資産には、19世紀における石見銀山の有力商人の社会的地位や生活の変遷を良好に示す町家建築の熊谷家住宅のほか、信仰関連遺跡である羅漢寺五百羅漢も含まれている。
- エ. 石見銀の採掘・精錬から運搬・積み出しに至る鉱山開発の総体を表す「銀鉱山跡と鉱山町」、「港と港町」、及びこれらをつなぐ「街道」から成っている。

(2) 世界文化遺産「古都京都の文化財（京都市、宇治市、大津市）」に含まれる構成資産として正しいもののみをすべて選んでいるものは、次のうちどれか。

- a. 平等院 b. 教王護国寺（東寺） c. 延暦寺 d. 仁和寺

- ア. a, b, c イ. a, b, d ウ. a, c, d エ. a, b, c, d

(3) ラムサール条約の登録地「尾瀬」に関する次の記述のうち、誤っているものはどれか。

- ア. 西側の尾瀬ヶ原、東側の尾瀬沼、燧ヶ岳の北側の御池田代の湿原などからなる日本有数の高層湿原である。
- イ. トンボ類をはじめ豊富な昆虫類や、季節により様々な花が見られるなど湿原特有の動植物に恵まれた貴重な自然環境を持つ。
- ウ. 福島県の檜枝岐村、群馬県の片品村、新潟県の魚沼市にまたがって所在している。
- エ. 日本のラムサール条約登録湿地 第1号であり、国の特別天然記念物の“タンチョウ”などが生息する。

(4) 秩父多摩甲斐国立公園内にある観光地として誤っているものは、次のうちどれか。

- ア. 西沢溪谷 イ. 大菩薩峠 ウ. 三峯神社 エ. 浅間山

8. 以下の各設問の行程について、前後に最も近い観光地を、選択肢の中からそれぞれ1つ選んで を埋め、モデルコースを完成させなさい。

(1) 郡山駅 —— 円谷英二ミュージアム —— —— 鶴ヶ城 —— 福島駅

- ア. 大内宿 イ. 奈良井宿 ウ. 妻籠宿 エ. 馬籠宿

(2) 河口湖駅 —— —— 白糸ノ滝 —— 富士山本宮浅間大社 —— 伊豆長岡温泉（泊）

- ア. 御母衣湖 イ. 清津峡 ウ. 忍野八海 エ. 渋の地獄谷噴泉

(3) 紀伊勝浦駅 — 那智の滝 — — 千畳敷 — 白浜温泉 (泊)

ア. 蘇洞門 イ. 橋杭岩 ウ. 爪木崎 エ. 竜串

(4) 門司駅 — 松本清張記念館 — — 北原白秋生家 — 山鹿温泉 (泊)

ア. 太宰府天満宮 イ. 鶴戸神宮 ウ. 霧島神宮 エ. 平安神宮

(5) 熊本駅 — 大江天主堂 — — 雲仙地獄めぐり — 長崎空港

ア. 原城跡 イ. 岡城跡 ウ. 大洲城 エ. 高取城跡

9. 以下の各設問の組合せについて、該当する答を、選択肢の中からそれぞれ1つ選びなさい。

(1) 次の郷土料理と観光地の組合せのうち、同じ都道府県でないものはどれか。

ア. しょつつる鍋 — 碇石海岸
イ. 深川めし — 秋川渓谷
ウ. 柿の葉ずし — 法起寺
エ. 皿鉢料理 — 室戸岬

(2) 祭り・行事と温泉の組合せのうち、開催場所と所在地が同じ都道府県でないものはどれか。

ア. 花笠まつり — かみのやま温泉
イ. 輪王寺強飯式 — 川治温泉
ウ. お水送り — 宇奈月温泉
エ. 長浜曳山まつり — おごと温泉

(3) 次の名産品と観光地の組合せのうち、同じ都道府県であるものはどれか。

ア. 結城紬 — 徳富蘆花記念文学館
イ. 常滑焼 — 本居宣長記念館
ウ. 砥部焼 — 内子座
エ. 芭蕉布 — 飫肥城歴史資料館

(4) 次の温泉と観光地の組合せのうち、その所在地がすべて同じ都道府県にあるものはどれか。

ア. 遠刈田温泉 — 金華山 — 入道崎
イ. 湯来温泉 — 縮景園 — 鞆の浦
ウ. 平湯温泉 — 恵那峡 — 寝覚の床
エ. 城崎温泉 — 北野異人館 — 天橋立

〈以 上〉